

ПРОТОКОЛ
 проверки олимпиадной работы участника

Предмет _____
 Класс _____
 Шифр _____
 № тура (если есть) _____

Заполняется проверяющими членами жюри

№ задания	1	2	3	4	5	6	7	8	ИТОГО	
	Максимальное количество баллов	16	10	14	8	6	21	4		21
Баллы членов жюри	Эксперт 1	16	10	14	8	3	21	4	21	92
	Эксперт 2	18	10	14	8	3	21	4	21	97
Итоговый балл										

Член жюри _____
 Подпись / ФИО

Член жюри _____
 Подпись / ФИО

Подпись / ФИО

Задания для обучающихся.

Время выполнения - 45 мин.

Максимальный балл - 100

Задание 1. Верны ли следующие утверждения? («Да» - «Нет»).

Ответы внесите в таблицу. За каждый правильный ответ - 2 балла.

Максимальный балл за задание - 16.

1. Железо было первым металлом, из которого люди стали изготавливать орудия труда.
2. Австралопитек был обнаружен на территории Юго-Восточной Африки.
3. Изучением и восстановлением физического облика древних людей занимается антропология.
4. Первым одомашненным животным стала лошадь.
5. Первого человека учёные называют - «человек разумный».
6. Мамонты являются древними обитателями Сибири.
7. Первыми в истории человечества определили продолжительность года (365 суток) жители Древней Индии.
8. Люди перешли к производящему хозяйству в период неолита.

1	2	3	4	5	6	7	8
нет	да	да	нет	нет	да	нет	да

Задание 2. Тестовые задания.

За каждый правильный ответ - 2 балла. Максимальный балл за задание - 10.

2.1. Определите дату окончания истории Древнего мира и начала истории Средних веков:

A) 410 г.

B) 395 г.

B) 476 г.

2.2. Когда происходило Великое переселение народов?

A) IV-VII в.в.

B) III-IV в.в.

B) I-II в.в.

2.3. Назовите транспортное средство бога Амона в Египте:

A) сани;

B) лодка.

B) повозка.

2.4. В какой стране впервые начали чеканить золотую монету?

A) Финикия;

B) Мидия;

B) Лидия.

2.5. Какие звуки не передавались на письме египтянами?

A) согласные;

B) гласные;

B) нет правильного ответа

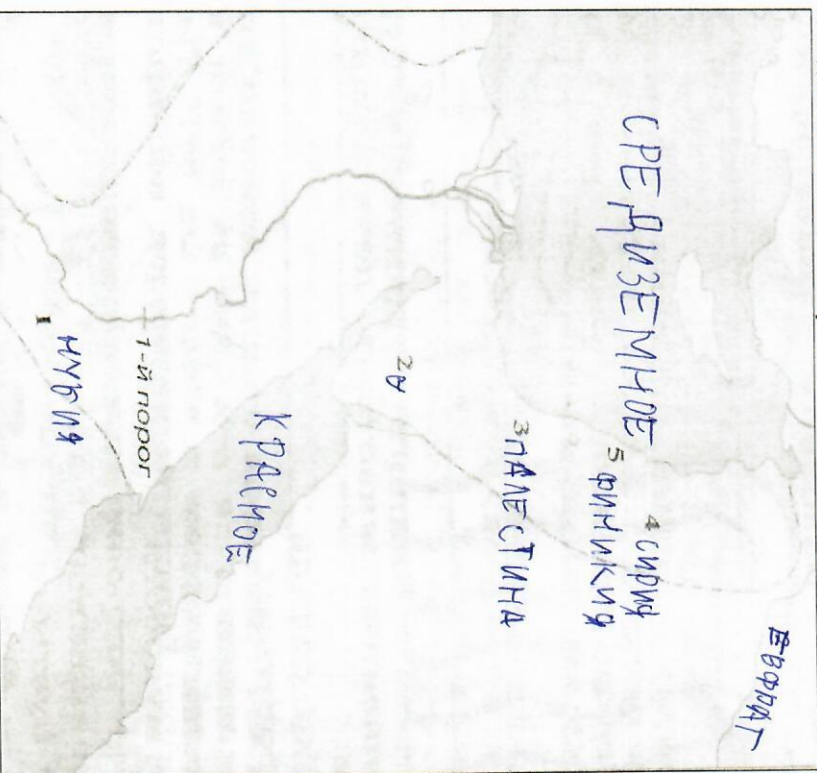
Задание 3. За каждый правильный ответ - 2 балла. Максимальный балл за задание - 14.

На контурной карте Египта:

1. надпишите название реки, до которой доходили границы Египетского царства на севере в середине II тысячелетия до н.э.;

2. рядом с цифрами надпишите название страны или регионов, завоеванных фараонами за пределами Египта (Финикия, Нубия, Сирив, Палестина). Например: 2 - Синайский полуостров;

3. надпишите название морей, омывавших Египет.



1 +
2 +
3 +
4 +
5 +
6 +
7 +
8 +
9 +
10 +
11 +
12 +
13 +
14 +
15 +
16 +
17 +
18 +
19 +
20 +
21 +
22 +
23 +
24 +
25 +
26 +
27 +
28 +
29 +
30 +
31 +
32 +
33 +
34 +
35 +
36 +
37 +
38 +
39 +
40 +
41 +
42 +
43 +
44 +
45 +
46 +
47 +
48 +
49 +
50 +
51 +
52 +
53 +
54 +
55 +
56 +
57 +
58 +
59 +
60 +
61 +
62 +
63 +
64 +
65 +
66 +
67 +
68 +
69 +
70 +
71 +
72 +
73 +
74 +
75 +
76 +
77 +
78 +
79 +
80 +
81 +
82 +
83 +
84 +
85 +
86 +
87 +
88 +
89 +
90 +
91 +
92 +
93 +
94 +
95 +
96 +
97 +
98 +
99 +
100 +

Задание 4. За каждый правильный ответ – 2 балла, максимальный балл за задание – 8.

Установи соответствие между понятиями и их определениями.

1. миф	А наука, изучающая вещественные памятники истории
2. жрецы	Б сказание о богах
3. мотыга	В служители бога
4. археология	Г палка с сучком для занятия земледелием

Соответствующие буквы ответов внеси в таблицу.

1	2	3	4
Б	В	Г	А

Задание 5. В каждой строке выберите слово лишнее по смыслу, объясните почему. За каждый правильный ответ – 2 балла. Максимальный балл за задание – 6.

1. Брахман	Шудры	Фараон	Неприкасаемые
2. Нил	Тигр	Ганг	Вавилон
3. Соломон	Шамаш	Анубис	Иштар

1. Брахман
2. Вавилон
3. Соломон

Задание 6. Вставьте пропущенные слова.

За каждый правильный ответ – 3 балла. Максимальный балл за задание – 21.
Археологам попался камень с надписью, часть которой была стерта. Прочитайте текст и впишите в таблицу недостающие слова
«Я - Синахериб, великий царь, могучий царь, царь 1) Ассирии царь всего света, премудрый, послушный великим 2) богам, любящий справедливость, творящий 3) доброе, испепеляющий врагов. Я нанес поражение царю 4) Ашшур-нирару. Посреди битвы покинул он свой лагерь, умчался один и спас свою 5) жизнь. В его дворец с ликованием я вошёл. Я отворил его сокровищницу. Золотую и Серебряную 6) монету, драгоценные камни, все, что там было, я забрал как добычу. 200 тыс. человек мужчин и женщин, коней, ослов и верблюдов, крупный и мелкий скот без числа я угнал в 7) Вавилон. Не покорных я оружием побил, трупы их завесил на кольях, которые висели вокруг города велел поставить»

- А) красота
Б) Египет
В) Ассирия
Г) монета
Д) Вавилон
Е) зло
Ж) дочь
З) боги
И) фараон
К) жизнь
Л) добро
М) утварь

1	2	3	4	5	6	7
В	З	А	Д	К	М	Б

Задание 7. Поработайте с датой.

За правильный ответ – 4 балла. Максимальный балл за задание – 4.

Используя ленту времени, ответьте на вопрос: Сколько лет прошло с момента захвата Вавилона персами до 2021 года? Ответ запишите цифрами
до н.э. 538 г → 2021
н.э. → 2021
4 + 2021
2559
538

Задание 8. Работа с иллюстрациями.


За каждый правильный ответ – 3 балла. Максимальный балл за задание – 21.

8.1. Перед вами плакат времен Великой Отечественной войны.

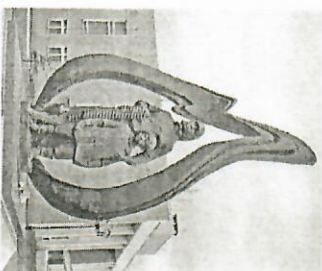

Какие исторические деятели представлены на плакате?

Ответ: Куртатов, Суворов, Буденный, Мухоморов, Косыгин, Давыдов, Димитрий

7+7+7+7+7



8.2. Перед вами памятники, объединенные единой тематикой. Укажите их название. Какой из памятников находится в Омске? Укажите цифру.



Ответ:

3 — *Материнский призыв* в Омске.

4